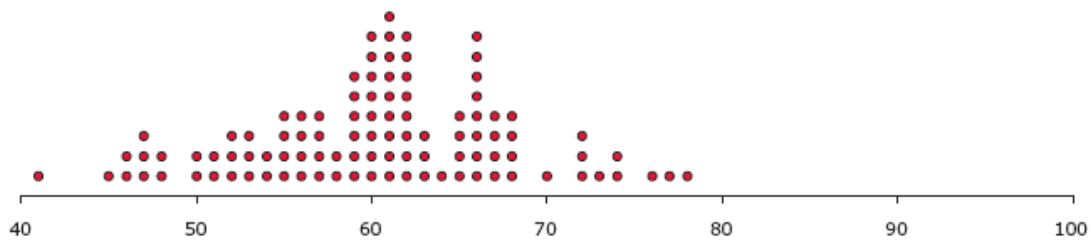


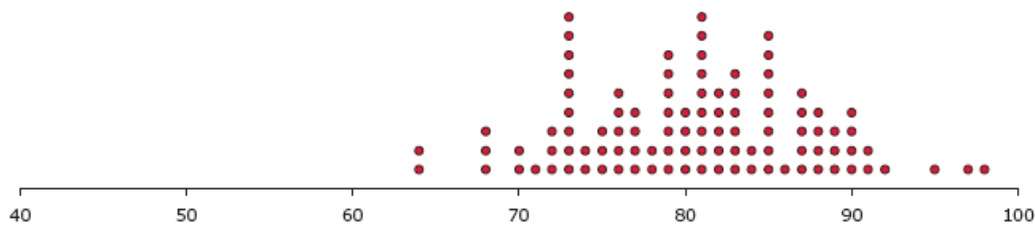
Tarefa 8 – A partir dos gráficos (I)...

Os dados dos resultados obtidos num exame de Português pelos alunos de duas escolas, foram organizados nos gráficos abaixo. Os resultados do exame foram expressos numa escala de 0 a 100.

Resultados no exame de Português dos alunos da Escola de Cima

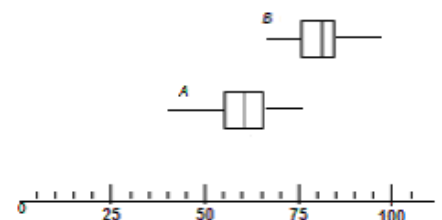


Resultados no exame de Português dos alunos da Escola de Baixo



Observa atentamente os gráficos e responde às seguintes questões.

- Qual foi a classificação mais frequente dos alunos da Escola de Cima? E da Escola de Baixo?
- Qual das escolas teve mais classificações inferiores a 50? Indica quantas obteve cada escola.
- Qual foi a escola com maior classificação média? Explica a tua resposta.
- Associa cada uma das escolas a um dos diagramas representados ao lado e explica a tua resposta.
- Indica um valor aproximado da classificação mediana em cada uma das escolas.



Texto adaptado de Martins, M. Eugénia Graça; Loura, Luísa Castro e Mendes, M. Fátima. *Análise de dados*. Lisboa: Editorial do Ministério da Educação.

