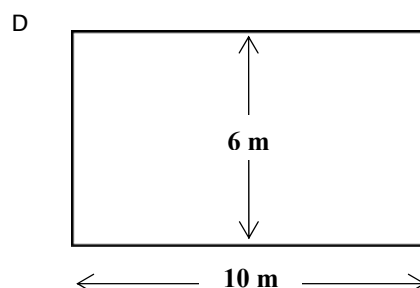
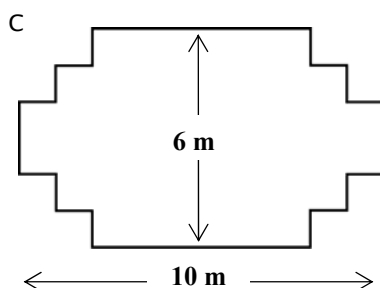
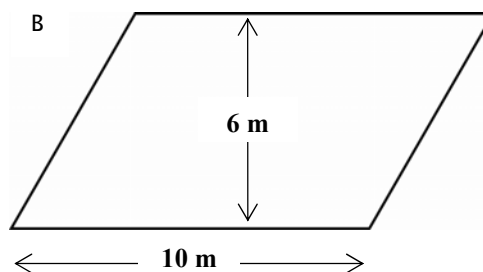
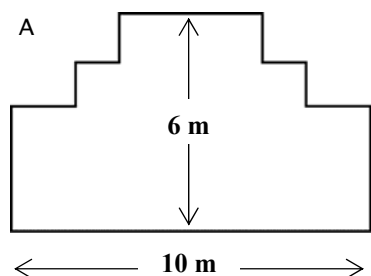


CARPINTEIRO

Questão 1: CARPINTEIRO

Um carpinteiro tem 32 metros de madeira e deseja construir um rebordo à volta de um canteiro de um jardim. Está a considerar os seguintes esquemas para o canteiro.



Faça um círculo em torno de «Sim» ou de «Não» a fim de indicar, para cada um dos esquemas, se o canteiro que lhe corresponde pode, ou não, ser construído com os 32 metros de tábuas.

Esquema do canteiro	O canteiro pode ser construído com os 32 metros de madeira?
Esquema A	Sim / Não
Esquema B	Sim / Não
Esquema C	Sim / Não
Esquema D	Sim / Não

